



وزارة التربية

الإدارة العامة لمنطقة الجهاد التعليمية

مدرسة المتنبى المتوسطة / بنين

قسم الاجتماعيات

تدريبات أثرية للفصل الدراسي الثاني
لمادة الاجتماعيات

للاصف ((الثامن المتوسط))

للعام الدراسي : ٢٠١٦ / ٢٠١٧ م

(الفصل الدراسي الثاني)

ملاحظة /

((هذه التدريبات لاتغني عن الكتاب المدرسي كليا))

العام الدراسي / ٢٠١٦-٢٠١٧ م
الفصل الدراسي الثاني
قسم الاجتماعيات

وزارة التربية
الإدارة العامة لمنطقة الجهراء التعليمية
مدرسة المنتبي، المتوسطة، بنين

أسئلة تدريبات للصف الثامن المتوسط

- أكمل العبارات التالية بما يناسبها :

- ١ - أنشأت منظمة المؤتمر الإسلامي في عام ١٩٧٠ م.
- ٢ - تقع جمهورية كازاخستان في قارة تسمى **آسيا**.
- ٣ - يمتد العالم الإسلامي في ثلاث قارات هي آسيا وأوروبا و **أفريقيا**.
- ٤ - عقد المؤتمر الإسلامي الخامس عام ١٩٨٧ م في مدينة **الكويت**.
- ٥ - اشتهر الفن الإسلامي بالصور والزخارف في قصر يسمى **الحمراء**.
- ٦ - من أشهر علماء النحو المسلمين عالم يسمى **أبو الأسود الدولي**.
- ٧ - تبلغ مساحة العالم الإسلامي **٣٧ مليون** كم^٢.
- ٨ - حصلت جمهورية السنغال على استقلالها في عام **١٩٦٠** م.
- ٩ - يمتد العالم الإسلامي بين خطي طول ١٨ غربا إلى **١٤٠** شرقا.
- ١٠ - أهم انهار جمهورية السنغال نهر السنغال ونهر يسمى **غامبيا**.
- ١١ - أول الخلفاء الراشدين يسمى **أبو بكر الصديق**.
- ١٢ - العدوان العراقي على دولة الكويت كان في ٢ أغسطس عام **١٩٩٠** م.

ب - اختر الإجابة الصحيحة من بين الأقواس وضع تحتها خطأ فيما يلي :

- ١ - تقع جمهورية السنغال في قارة تسمى :
٠ (آسيا - أفريقيا - أوروبا - أستراليا)
- ٢ - أول دولة عربية أرسلت قواتها لمساعدة مصر في حرب ١٩٦٧م هي:
٠ (قطر - الكويت - اليمن - تونس)
- ٣ - أستقلت دولة الكويت في عام :
٠ (١٩٦٠م - ١٩٦١م - ١٩٦٢م - ١٩٦٣م)
- ٤ - توجد مأذنة المسجد الجامع في مدينة تسمى :
٠ (الرباط - القاهرة - القيروان - طرابلس)
- ٥ - يمتد العالم الإسلامي من دائرة عرض ١٠ جنوبا حتى :
٠ (٣٥ شمالا - ٤٥ شمالا - ٥٥ شمالا - ٦٥ شمالا)
- ٦ - القرار النهائي الذي يرسم الحدود بين الكويت والعراق يحمل رقم :
٠ (٨١٠ - ٨٢١ - ٨٣٣ - ٨٤٥)
- ٧ - شاركت دولة الكويت في حرب ١٩٧٣م بقوات من لواء يسمى:
٠ (كاظمة - الجهراء - الاحمدي - مبارك)
- ٨ - يعقد المؤتمر الإسلامي على مستوى وزراء الخارجية مرة كل :
٠ (سنة - سنتين - ثلاث سنوات - أربع سنوات)
- ٩ - مقر الامانة لمنظمة المؤتمر الإسلامي في مدينة :
٠ (الكويت - القاهرة - المنامة - جدة)
- ١٠ - أنشأ البنك الإسلامي للتنمية عام :
٠ (١٩٥٤م - ١٩٧٥م - ١٩٨٢م - ١٩٩٣م)

صح ما تحته خط فتي العبارات التالية مع وضع الإجابة الصحيحة بين الأقواس :-

- ١ - تقع جمهورية السنغال في شمال قارة أفريقيا .
(**غرب**)
- ٢ - هاجم العراقيون مركز الصامته الحدودي لدولة الكويت عام ١٩٩١ م .
(**١٩٧٣**)
- ٣ - تجب الزكاة في الأموال النقدية بنسبة ٤,٥% .
(**٢,٥%**)
- ٤ - سميت صناعة الارابيسك بهذا الاسم نسبة إلى الأترك .
(**العرب**)
- ٥ - يعيش في العالم الإسلامي ٣٢% من مجموع سكان العالم .
(**٢٥%**)
- ٦ - شاركت دولة الكويت في حرب ١٩٦٧ بقوات تتكون من لواء كاظمة .
(**اليرموك**)
- ٧ - انشئ الصندوق الكويتي للتنمية الاقتصادية عام ١٩٦٤ م .
(**١٩٦١**)
- ٨ - عدد الدول المستفيدة من الصندوق الكويتي للتنمية الاقتصادية ٦٧ دولة
(**١٠١**)
- ٩ - الغت دولة الكويت معاهدة الحماية مع فرنسا عام ١٩٦١ م .
(**بريطانيا**)
- ١٠ - افتتحت دار الآثار الإسلامية عام ١٩٧٣ م في دولة الكويت .
(**١٩٨٣**)

- علل ما يلي (أذكر السبب) :-

- ١- تعد الحضارة العربية الإسلامية من أعظم الحضارات التي عرفت الإنسانية
أ - نظرا لما نتج عنها من علوم نقلية وعلوم عقلية
- ٢ - الاهتمام الكبير من قبل الدولة الإسلامية بالصناعة .
أ - من اجل استغلال الموارد الطبيعية المتوفرة بها
- ٣ - زادت الاهمية الإستراتيجية لموقع العالم الإسلامي .
أ - لسيطرته على عدد من المضائق المائية وإشرافه على بعض البحار والخلجان والبحيرات
- ٤ - قيام المؤتمر الإسلامي الاول .
أ - بسبب قيام الكيان الصهيوني بإحراق المسجد الأقصى
- ٥ - انتشار البطالة بين السكان في العالم الإسلامي .
أ - تزايد عدد السكان
ب - ضعف الدخل القومي
ج - قلة المشاريع الاستثمارية
- ٦ - انتشار الجريمة في المجتمعات المسلمة .
أ - الانفجار السكاني (الزيادة السكانية)
ب - انتشار البطالة
ج - ضعف دخل الفرد
- ٧ - إنشاء الصندوق الكويتي للتنمية الاقتصادية .
أ - تقديم القروض الميسرة للدول المحتاجة
ب - تقديم المنح على سبيل المعونات الفنية
ج - الإسهام في برامج التنمية
- ٨ - تأسيس الهيئة الخيرية الإسلامية العالمية .
أ - تقديم المساعدات المالية والعينية
ب - نشر الثقافة الإسلامية

- عرّف ما يلي :-

١ - الحضارة : هي كل ما أنجزه الإنسان من رقي وتقدم بمختلف جوانب الحياة المادية والمعنوية .

٢ - الثقافة : ذلك المركب الذي يشمل المعرفة والعقيدة والفن والأخلاق والقانون والعادات التي يكتسبها الإنسان .

٣- الخلافة : هي رئاسة عامة للمسلمين في امور الدنيا والدين .

٤ - الزكاة : كل ما يخرجها المسلم من حق الله تعالى في الأموال والثروات على المستحقين من الفقراء والمساكين .

٥ - الخراج : هو المال الذي يفرض على الأراضي الزراعية .

٦- الجزية : هي مال يؤخذ من أهل الذمة (اليهود - النصارى)

٧ - الوقف الإسلامي : هو تحبيس الاصل وتسييل المنفعة وهو صدقة جارية .

٨ - الحكام : يتولون شؤون الدولة الإسلامية من الناحية السياسية والعسكرية .

٩- رجال الدين : فئة متخصصة بالناحية الدينية من فتاوي دينية .

١٠ - التجار : تهتم بالمعاملات التجارية من بيع وشراء .

١١ - أهل الذمة : هم النصارى واليهود الذين ظلوا على دينهم مع دفع الجزية .

١٢ - الخدم : يخصصون للأعمال المنزلية وغيرها .

١٣ - الدولة الإسلامية : هي التي يكون فيها عدد المسلمين ٥٠% او أكثر من مجموعة السكان ويحكمها حاكم مسلم .

١٤ - منظمة المؤتمر الإسلامي : منظمة إقليمية دولية تضم دول العالم الإسلامي المستقلة وتضم ٥٧ دولة ومقرها مدينة جدة .

١٥ - الحدود السياسية : هي عبارة عن خطوط حددت بواسطة الإنسان ورسمت حتى تفصل بين سيادة دولة ودولة اخرى .

١٦ - التخلف التقني (التكنولوجي) هي عدم الأخذ بأساليب التكنولوجيا المتطورة والاعتماد على الإنتاج اليدوي .

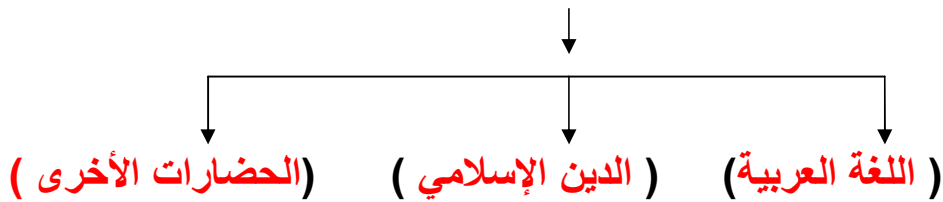
١٧ - الميزان التجاري : الفرق بين قيمة الصادرات وقيمة الواردات بالدولة .

١٨ - آيسيسكو : هي المنظمة الإسلامية للتربية والعلوم والثقافة .

١٩ - أينا : هي وكالة الانباء الإسلامية الدولية .

٢٠ - إسبو: هي منظمة إذاعات الدول الإسلامية .

- أسس قيام الحضارة الإسلامية هي :



- خصائص الحضارة الإسلامية هي :

١- إنسانية

٢- تسامح

٣- عالمية

٤- إيمان وعمل


- مصادر بيت مال المسلمين هي :

١- الزكاة

٢- الخراج

٣- الصدقات

- معابر الحضارة الإسلامية على قارة أوروبا هي :



- من خلال دراستك للحياة العلمية في العالم الإسلامي أكمل الجدول التالي بما يناسبه :-

العلم	العالم	الكتب
الفيزياء	الحسن بن الهيثم	المناظر
الطب	الرازي	الحاوي
الجغرافيا	الإدريسي	نزهة المشتاق في اختراق الآفاق

- من خلال دراستك للمؤتمرات الإسلامية أكمل الجدول التالي :

رقم المؤتمر	العام	المدينة التي عقد فيها المؤتمر
الأول	(١٩٧٠)	الرباط
الثاني	(١٩٧٤)	لاهور
الثالث	(١٩٨١)	مكة المكرمة
الرابع	(١٩٨٤)	الدار البيضاء
الخامس	(١٩٨٧)	الكويت
السادس	(١٩٩٠)	السنغال
السابع	(٢٠٠٠)	الدوحة

- أهم المضايق التي يسيطر عليها العالم الإسلامي :

- ١- مضيق هرمز
- ٢- مضيق باب المندب
- ٣- مضيق جبل طارق
- ٤- مضيق ملقا
- ٥- مضيق السند

أهداف منظمة المؤتمر الإسلامي :

- ١- تعزيز التضامن الإسلامي
- ٢- اتخاذ التدابير اللازمة لدعم السلام والأمن
- ٣- إيجاد المناخ لتعزيز التعاون والتفاهم الاقتصادي

- ١- تقديم القروض المالية
- ٢- إنشاء البنك الإسلامي للتنمية
- ٣- إنشاء الغرفة الإسلامية للتجارة
- ٤- دعم التعاون في مجالات الاقتصاد الاجتماعي

- ١- العمل على محو التفرقة والعنصرية
- ٢- دعم كفاح جميع الشعوب الإسلامية في سبيل المحافظة على استقلالها

- عدد أهم قرارات المؤتمر الإسلامي الخامس في دولة الكويت عام ١٩٨٧م؟

١- دعم القضية الفلسطينية ٣- إدانة الإرهاب

٢- وحدة لبنان ٤- حل قضية القبارصة الأتراك

- ماهي أهداف كل من :

١- الهيئة الخيرية الإسلامية العالمية :

١- معاونة الفقراء والمحتاجين والايتام وتقديم المساعدات المالية والعينية .

٢- نشر الثقافة الإسلامية .

٢- بيت الزكاة :

١- جمع وتوزيع أموال الزكاة

٢- القيام بأعمال الخير والبر

٣- بث روح التكافل والتراحم

٣- وكالة الانباء الإسلامية (إينا) :

١- تعريف العالم بمشاكل الشعوب الإسلامية

٢- تطوير الاتصال والتعاون الفني بين وكالات الأنباء في الدول الإسلامية

٣- إقامة علاقة وثيقة بين دول الأعضاء وتميبتها في ميدان الإعلام

٤- منظمة إذاعات الدول الإسلامية (إسبو) :

١. نشر مبادئ الدعوة الإسلامية ٣- شرح القضايا الإسلامية

٢. تعريف الشعوب الإسلامية ببعضها ٤- تنمية التعاون بين الدول

الأعضاء في الميدان الاذاعي

٥- المنظمة الإسلامية للتربية والعلوم والثقافة (آيسيسكو) :

١- تشجيع التعاون بين دول الأعضاء

٢- تقوية التعاون بين دول الأعضاء في ميادين التربية والعلوم والثقافة

٣- تدعيم التفاهم بين الشعوب والمساهمة في إقرار السلم والامن

٦- ماهي أنشطة دار الآثار الإسلامية؟

١- إقامة المعارض داخل الكويت وخارجها

٢- دورات تدريبية للفنون الإسلامية

٣- ترميم وصيانة الآثار الإسلامية

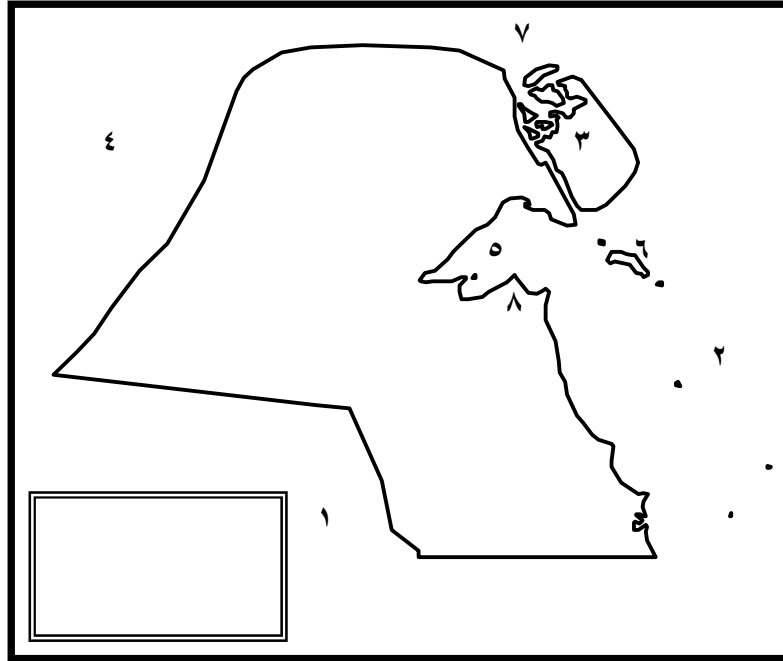
- لاحظ الخريطة المرسومة إمامك واكتب مدلولات الأرقام التالية :-

١ - دوله تسمى **السعودية** ٥ - جون اسمه **الكويت**

٢ - خليج يسمى **العربي** ٦ - جزيرة تسمى **فيلكا**

٣ - جزيرة يسمى **بوبيان** ٧ - خور يسمى **عبدالله**

٤ - دوله تسمى **العراق** ٨ - مدينة (العاصمة) تسمى **الكويت**



- لاحظ خريطة جمهورية السنغال الصماء المرسومة إمامك واكتب

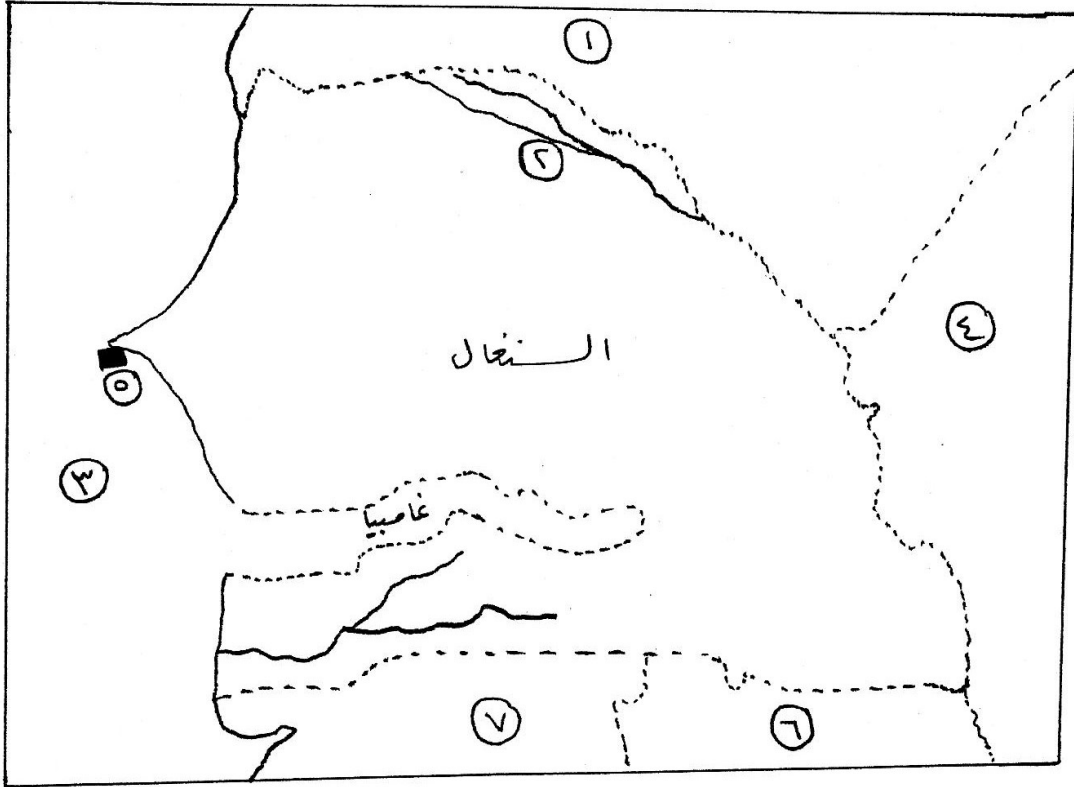
مدلولات الأرقام التالية : ص ٨٧

١ - دوله تسمى **موريتانيا** ٥ - مدينة (العاصمة) تسمى **داكار**

٢ - نهر يسمى **السنغال** ٦ - دولة تسمى **غينيا**

٣ - محيط يسمى **الأطلسي (الأطلنطي)** ٧ - دولة يسمى **غينيا بيساو**

٤ - دوله تسمى **مالي**



- لاحظ خريطة جمهورية كازاخستان الصماء المرسومة إمامك واكتب مدلولات الأرقام التالية : ص ٨٩

١ - دوله تسمى **روسيا** ٦ - دولة تسمى **منغوليا**

٢ - نهر يسمى **اتش** ٧ - دولة يسمى **قرغيزستان**

٣ - بحر يسمى **قزوين** ٨ - بحيرة تسمى **بلكاش**

٤ - دوله تسمى **الصين** ٩ - بحر يسمى **آرال**

٥ - العاصمة مدينة تسمى **أستانا** ١٠ - دولة تسمى **اوزبكستان**

