

تمارين مادة الرياضيات – الوحدة الثامنة

أكملي:



$$= 2 + 2 + 2$$

$$= 3 \times 2$$



عبري بعبارة الضرب المناسبة:

$$\text{----} = \text{----} \times \text{----}$$



$$\text{----} = \text{----} \times \text{----}$$



$$\text{----} = \text{----} \times \text{----}$$

أوجدني الناتج باستخدام خط الأعداد:

$$= 9 \times 2$$

$$= 3 \times 3$$

$$= 3 \times 4$$

أوجدني الناتج باستخدام الرسم بالصور:

$$= 8 \times 2$$

$$= 5 \times 3$$

عبري عن الصورة بعبارة ضرب كاملة



بنات

=

x

شاهدت أمل في الحديقة أربعة أشجار، في كل شجرة ثلاث تفاحات

كم عدد التفاح؟

٢ X ٦ لها نفس ناتج:

٢ X ٦

٣ X ٣

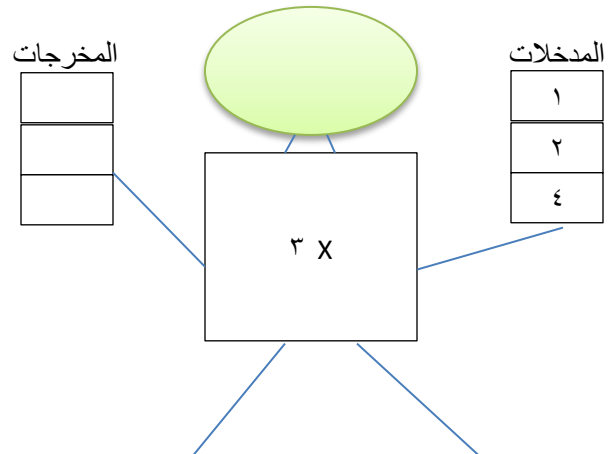
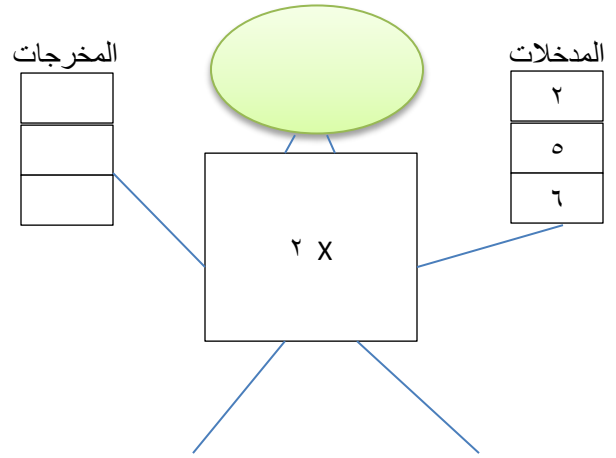
٢ X ٤

باستخدام العناصر لبناء المصفوفات أوجدني


٤X٥

٨X٢


أكملي:



عبري بعبارة الضرب المناسبة



$$\bigcirc = \bigcirc \times \bigcirc$$



$$\bigcirc = \bigcirc \times \bigcirc$$

نسقت أجوان 4 مزهريات في كل منها زهرتان، كم عدد الأزهار؟



$$\text{-----} = \text{----} \times \text{-----} = \text{عدد الأزهار}$$